



Autorem materiálu a všech jeho částí, není-li uvedeno jinak, je Králová Radka.

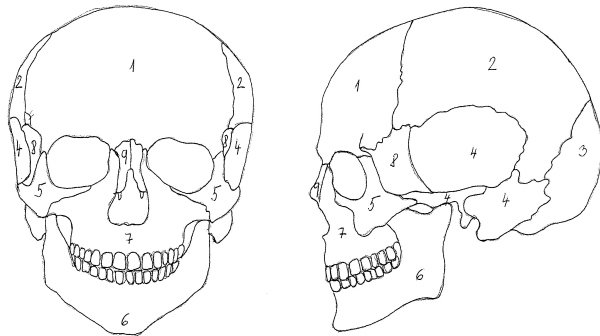
Dostupné ze Školského portálu Karlovarského kraje www.kvkskoly.cz, materiál vznikl v rámci projektu Gymnázia Cheb s názvem Rozvoj školského portálu Karlovarského kraje

TEST - ŘEŠENÍ

LIDSKÁ KOSTRA

A

1. Pojmenuj vybrané kosti lebky na obrázku:



1- kost čelní
6- dolní čelist

4- kost spánková
8- kost klínová

2. Ke skupině kostí napiš, jakým způsobem jsou spojeny:

- | | |
|--------------------------|--------------------|
| a) žebra s kostí hrudní | spojení chrupavkou |
| b) kost pažní s lopatkou | spojení kloubem |
| c) obratle křížové | srůstem |
| d) kosti temenní | spojení vazivem |

3. Podtrhni kosti, které tvoří kostru horní končetiny:

kost klíční, kost holenní, kost vřetenní, česka, kost stehenní, lopatka

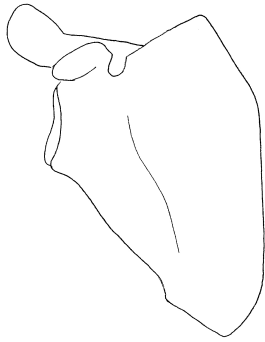
4. Napiš název minerálu, který je potřeba pro správný růst

kostí:vápník.....

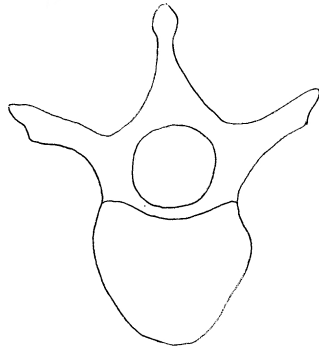
Napiš název dvou potravin, které jsou jeho významným zdrojem: ...mléko.....,

.....sýr.....

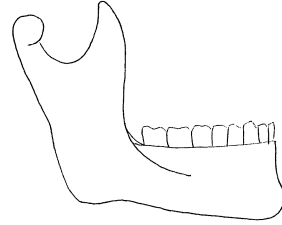
5. Pod každý obrázek napiš název vyobrazené kosti:



lopatka



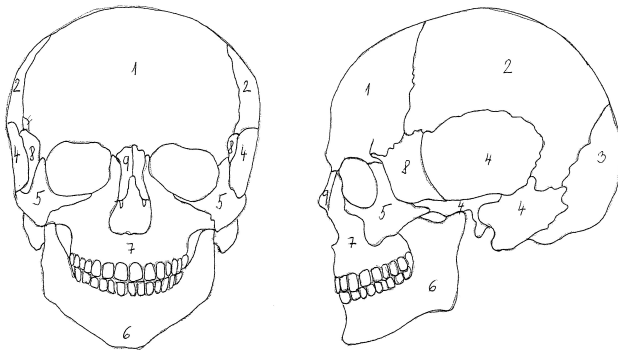
obratel



dolní čelist

B

1. Pojmenuj vybrané kosti lebky na obrázku:



2- kost temenní
7- horní čelist

5- lícní kost
9- nosní kost

2. Ke skupině kostí napiš, jakým způsobem jsou spojeny:

- a) obratle spojení chrupavkou
- b) kost stehenní s pánví spojení kloubem
- c) obratle kostrční srůstem
- d) kosti temenní spojení vazivem

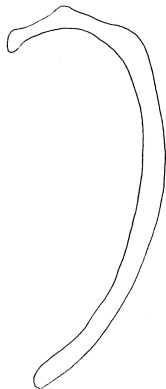
3. Podtrhni kosti, které tvoří kostru dolní končetiny:

kost klíční, kost holenní, kost vřetenní, čéška, kost stehenní, lopatka

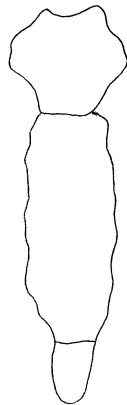
4. Napiš název minerálu, který je potřeba pro správný růst kostí:.....vápník.....

Napiš název dvou potravin, které jsou jeho významným zdrojem:..... mléko...,
sýr

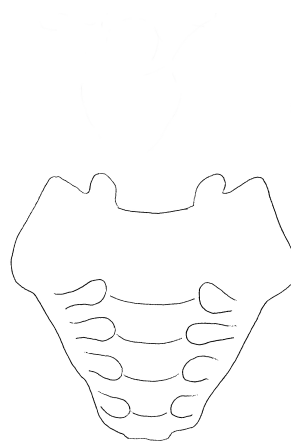
5. Pod každý obrázek napiš název vyobrazené kosti:



žebro



kost hrudní



kost křížová

