

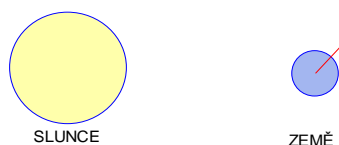


Autorem materiálu a všech jeho částí, není-li uvedeno jinak, je Jalovcová Pavla.

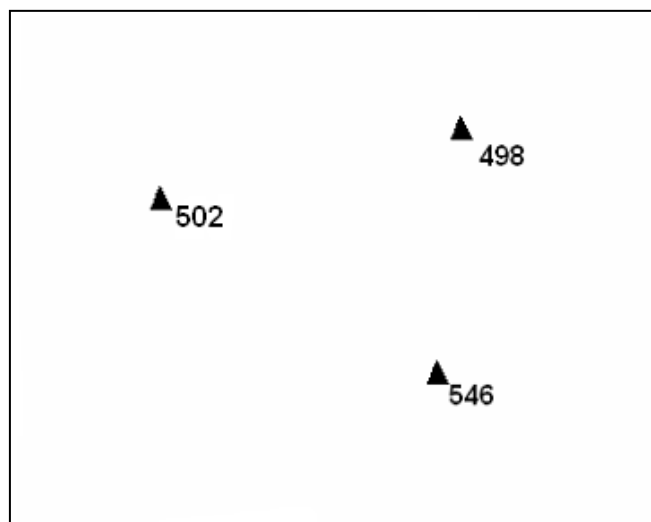
Dostupné ze Školského portálu Karlovarského kraje www.kvkskoly.cz, materiál vznikl v rámci projektu Gymnázia Cheb s názvem Rozvoj školského portálu Karlovarského kraje

Test – opakování - prima varianta A

1. Dle obrázku urči přibližné datum a zakresli Zemi (do tohoto obrázku) v poloze zhruba za 3 měsíce.



2. Do obrázku zakresli vrstevnice s intervalem 10 m tak, aby vyhovovaly zakresleným kótám.



3. Zjisti názvy měst s těmito zem. souřadnicemi a urči jejich leteckou vzdálenost.

44,5° SŠ a 26° VD

38° SŠ a 23,75° VD

vzdálenost:

4. Dopln tabulku:

stát	převažující vegetační pás	dva živočišní zástupci
Uruguay		
Gabon		
Libye		


5. Zakroužkuj správné výroky:

- USA mají regresivní věkovou pyramidu.
- Žirafy žijí ve stepích.
- Míšenec indiána a bělocha je mestic.
- Nil je nejdelší řekou světa.
- Pro přepravu osob se nejvíce využívá silniční doprava.
- Brambory se pěstují hlavně v tropickém podnebném pásu.

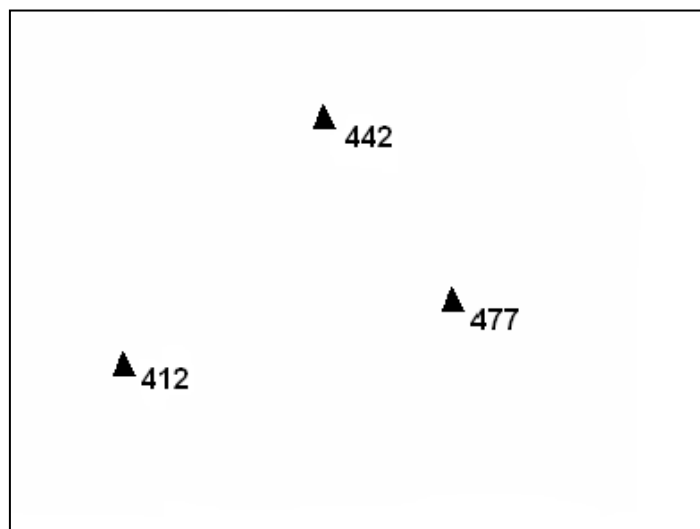
6. Dopln 2 významné oblasti těžby ropy.

Test – opakování - prima varianta B

1. Dle obrázku urči datum a zakresli Zemi (do tohoto obrázku) v poloze zhruba za 3 měsíce.



2. Do obrázku zakresli vrstevnice s intervalem 10 m tak, aby vyhovovaly zakresleným kótám.



3. Zjisti názvy měst s těmito zem. souřadnicemi a urči jejich leteckou vzdálenost.

37,5° SŠ a 7° ZD

48° SŠ a 7,5° VD

vzdálenost:

4. Doplně tabulku:

stát	převažující vegetační pás	dva živočišní zástupci
Omán		
Kazachstán		
Kongo		

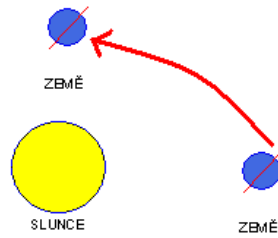
5. Zakroužkuj správné výroky:

- Největší jezero na světě je Černé moře.
- Míšenec domorodého Australana a bělocha je mulat.
- Jeleni žijí v tundře.
- Kanada má regresivní věkovou pyramidu.
- Většina meteorologických jevů probíhá v troposféře.
- Pro přepravu osob na velké vzdálenosti se nejvíce využívá letecká doprava.

6. Doplň 2 významné oblasti těžby černého uhlí.

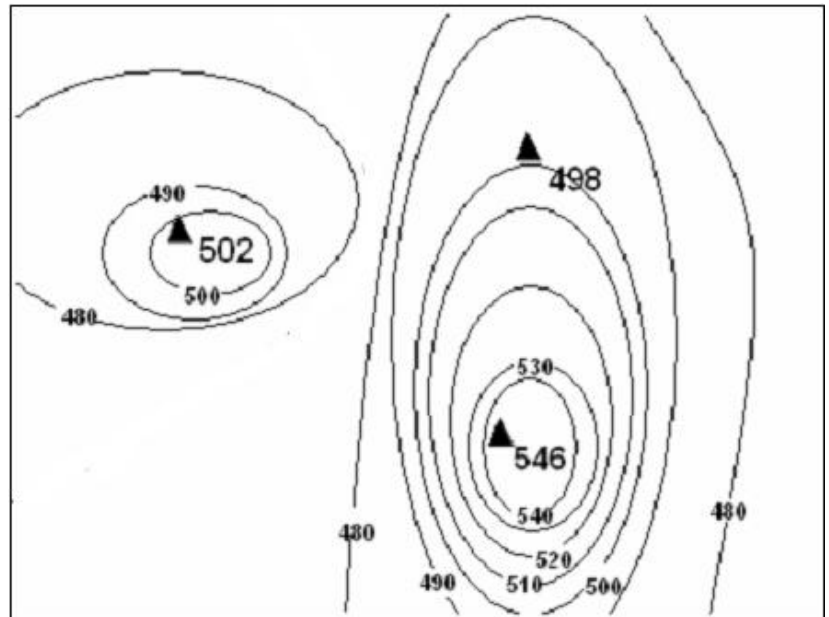
Test – opakování - prima varianta A – řešení

1. 21. - 22. 12.



2. Jedno z možných řešení

3. Bukurešť
Atény
750 km



4.

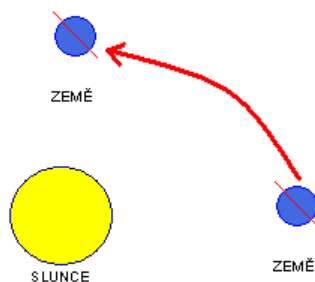
stát	převažující vegetační pás	2 živ. zástupci
Uruguay	step (pampa)	mravenečník, pásovec
Gabon	trop. deštný les	orangutan, hadí
Libye	horká poušť	velbloud, fenek

5. c, e

6. Perský záliv, Rusko, Mexický záliv, Čína, Kanada, Venezuela, S Afrika

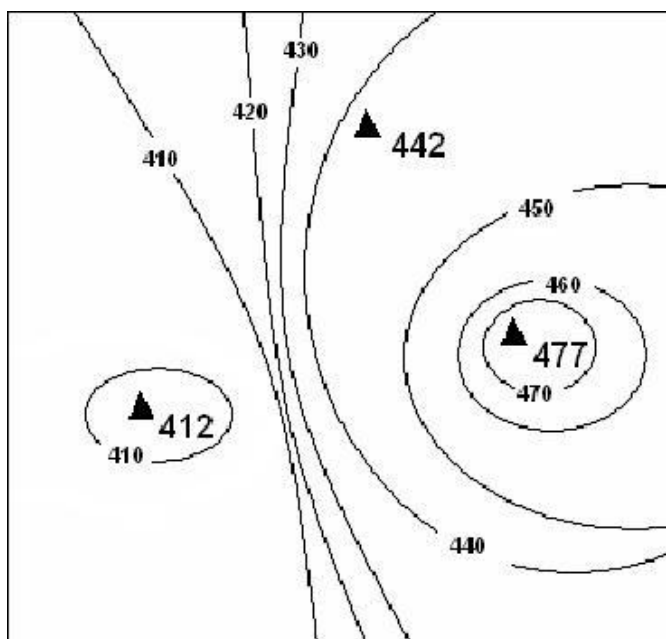
Test – opakování - prima varianta B – řešení

1. 21. - 22. 6.



2. Jedno z možných řešení

3. Badajoz
Strasbourg
1575 km



4

stát	převažující vegetační pás	2 živ. zástupci
Omán	horká poušť	velbloud, fenek
Kazachstán	step	kůň, hraboš
Kongo	trop. deštný les	gorila, papoušci

5. b,e,f

6. USA, Indie, Čína, Rusko