



INVESTICE DO ROZVOJE VZDĚLÁVÁNÍ

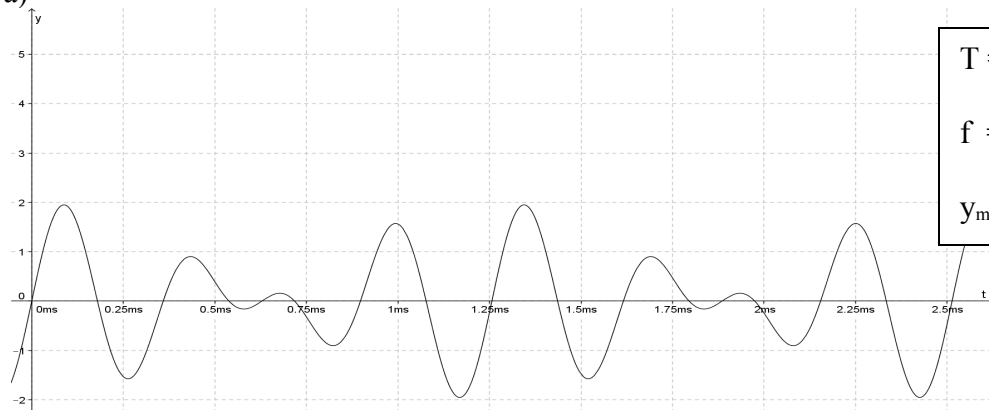
Autorem materiálu a všech jeho částí, není-li uvedeno jinak, je Úlovec Roman.

Dostupné ze Školského portálu Karlovarského kraje www.kvkskoly.cz, materiál vznikl v rámci projektu Gymnázia Cheb s názvem Rozvoj školského portálu Karlovarského kraje

Pracovní list

1. Určete periody zobrazených tónů, jejich frekvence a největší amplitudy.

a)

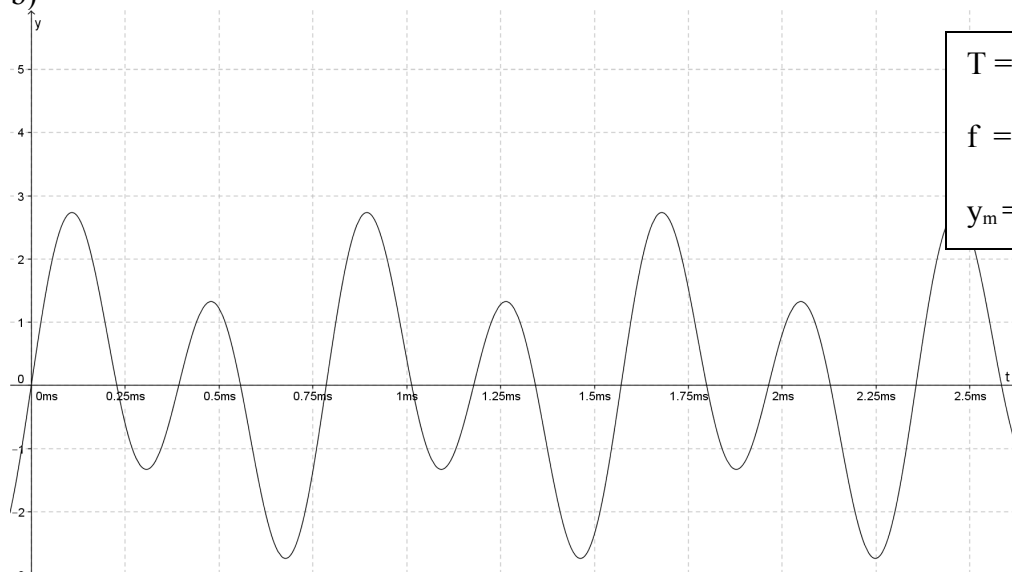


T =

f =

$y_m =$

b)

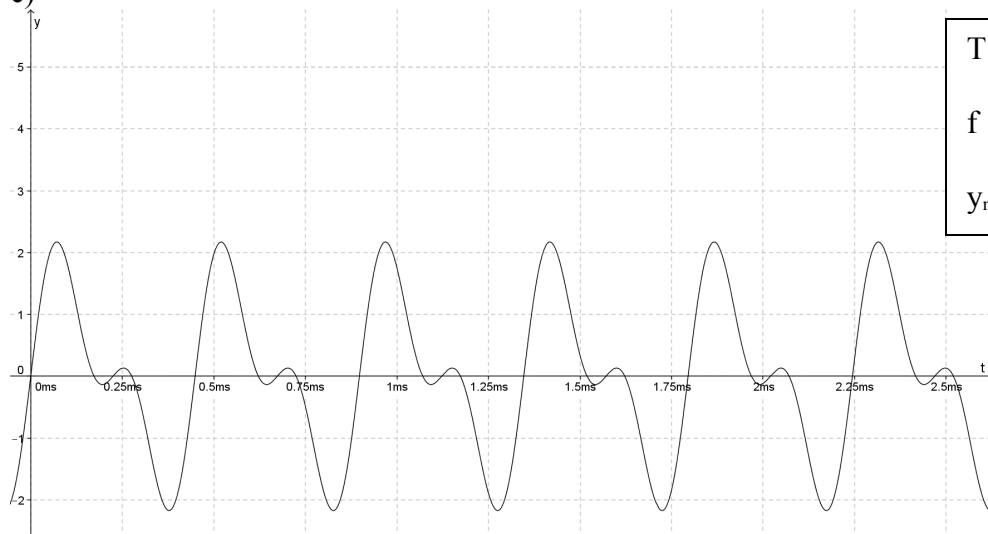


T =

f =

$y_m =$

c)



T =

f =

$y_m =$

2. Který zobrazený tón je nejvyšší, nejnižší?

3. Který zobrazený tón má největší, nejmenší maximální amplitudu?